



Geometriske figurer

1. Hvor mange trekanter ser du på bildet?

2. Hvor mange firkanter?

3. Hvor mange trapes?

4. Hvor mange parallelogrammer?



5. Hvor mange trekanter ser du på bildet nummer 2?

6. Hvor mange firkanter?

7. Hvor mange trapes?

8. Hvor mange parallelogrammer?

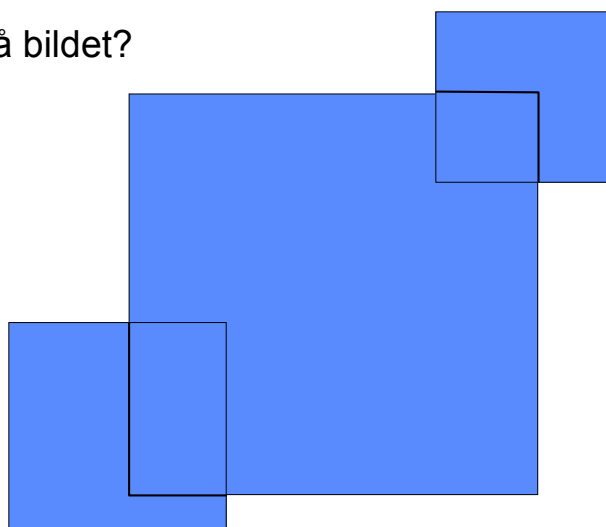
Geometriske figurer

1. Hvor mange trekanter ser du på bildet?

2. Hvor mange firkanter?

3. Hvor mange trapes?

4. Hvor mange kvadrater?



5. Hvor mange firkanter ser du på bildet nr 2?

6. Hvor mange kvadrater?

7. Hvor mange trapes?

8. Hvor mange parallelogrammer?